

Opgave 5 – Zuid-Amerika: 'Wie is de mol?' in Colombia

Bij deze opgave horen de bronnen 8 tot en met 11.

In 2019 speelde het programma 'Wie is de Mol?' zich af in Colombia. Hieronder staan drie uitspraken over Colombia (a tot en met c) en zes begrippen (1 tot en met 6).

a	Het percentage mensen met een volledig Europese, Afrikaanse of inheemse achtergrond daalt.	1	bevolkingsparticipatie
b	Een volksraadpleging in Cajamarca in maart 2017 voorkwam de uitvoering van een groot mijnbouwproject.	2	cliëntelisme
c	In een onderzoek gaf 20% van de huishoudens aan dat hun stem in de verkiezingen mede bepaald wordt door gunsten, geschenken of banen in ruil voor hun stem.	3	elite
		4	etniciteit
		5	latifundia
		6	mestisering

- 2p 17 Noteer de letters a tot en met c onder elkaar op je antwoordblad. Schrijf achter elke letter het daarbij behorende begrip. *Let op: er blijven drie begrippen over.*

Gebruik de bronnen 8 en 9 en het kaartenkatern.

De deelnemers van 'Wie is de mol?' vlogen van Medellín in de Centrale Cordillera naar Bucaramanga in de Oostelijke Cordillera.

- 2p 18 Geef twee geologische verschillen tussen deze Cordillera's. Gebruik in je antwoord de namen van deze twee Cordillera's.

Gebruik de bronnen 8 en 10 en het kaartenkatern.

De reis die werd gemaakt startte in Medellín en eindigde in Cartagena. Deze twee plaatsen hebben een verschillend klimaat.

- 3p 19 Noteer op je antwoordblad drie klimatologische verschillen tussen Medellín en Cartagena. Geef voor elk verschil de juiste oorzaak.

Gebruik bron 11.

- 2p 20 Beredeneer dat het televisieprogramma 'Wie is de mol?' zowel het geografische beeld als het mentale beeld van Colombia kan versterken.

Opgave 5 – Zuid-Amerika: 'Wie is de mol?' in Colombia

bron 8

Het televisieprogramma 'Wie is de mol?'

'Wie is de mol?' is een programma op de Nederlandse televisie. Al seizoenen lang bezoeken groepen bekende Nederlanders een gebied om tijdens groepsopdrachten te achterhalen wie de mol (de saboteur) van de groep is. In 2019 speelde het programma zich af in Colombia.

Route van 'Wie is de mol?' in 2019



Legenda:

hoogte in meters

0 - 200

200 - 500

500 - 1000

1.000 - 2.000

2.000 - 5.000

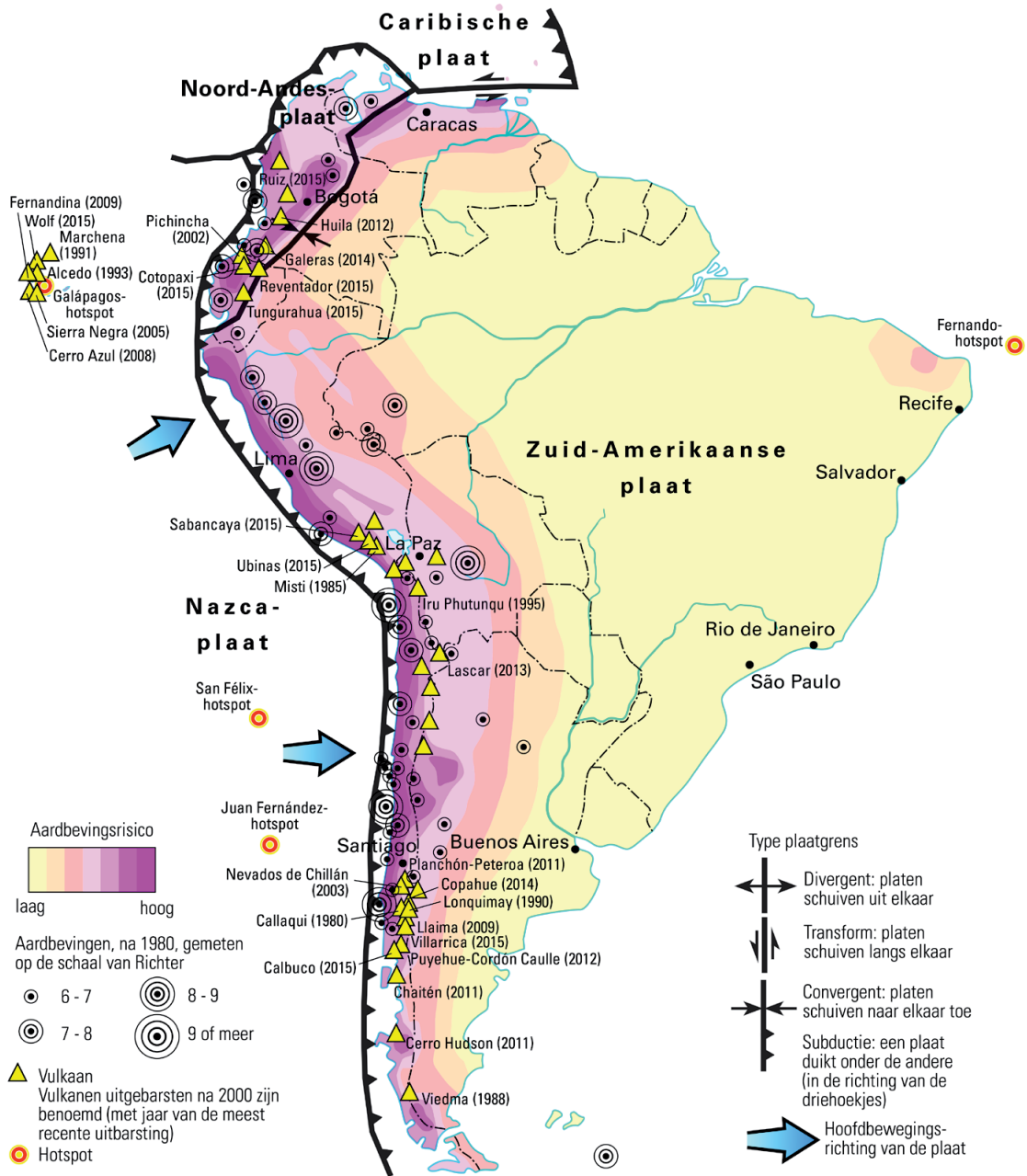
— route per bus

⋯ route per vliegtuig

0 125 250 km

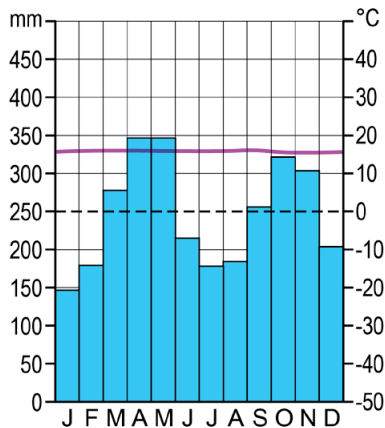
bron 9

Zuid-Amerika, tektoniek en vulkanisme

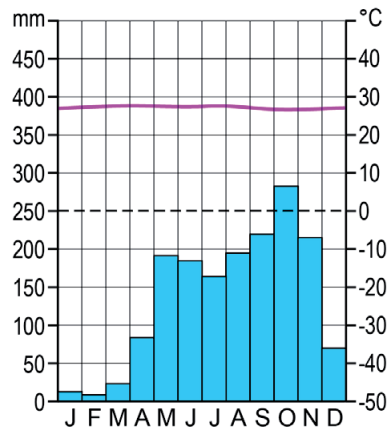


bron 10

Klimaatdiagram van Medellín



Klimaatdiagram van Cartagena




bron 11

Adios Colombia

Het RTL Nieuws plaatste op zijn website na afloop van het seizoen van 'Wie is de Mol?' het volgende bericht: "Na maanden te hebben meegedeeld met de deelnemers zijn we toch wel aan ze verknocht geraakt en ook aan het land waar ze doorheen reisden: wat is het daar mooi! Daarom nemen we je nog een keer mee langs al die mooie plekjes. Misschien een goede inspiratie voor een spannende reis."

Bogotá



Medellín



Bronvermelding

Een opsomming van de in dit examen gebruikte bronnen, zoals teksten en afbeeldingen, is te vinden in het bij dit examen behorende correctievoorschrift, dat na afloop van het examen wordt gepubliceerd.